




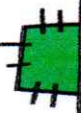









Dokresli obrázek tak, aby platily počty v tabulce. Ale pozor, nejprve musíš spočítat, kolikrát už každá věc na obrázku je. Najdi šest hadů a dvě kočky.

										
2	5	10	6	8	9	7	4	10	5	3